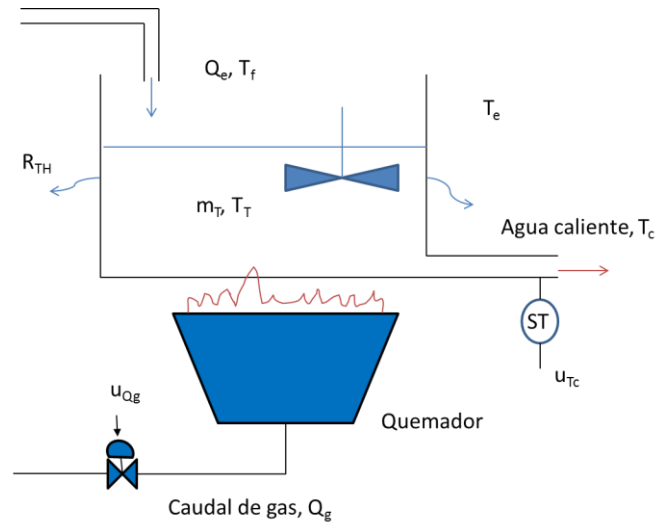


**1. Problema (5 puntos ev. continua, 3 puntos ev. final -75 minutos)**

El esquema de la figura representa un calentador de agua. Después de realizar un ensayo de Ziegler-Nichols sobre la planta y bajo ciertas condiciones, se puede modelar el calentador como:

$$\frac{\Delta u_{Tc}(s)}{\Delta u_{Qg}(s)} = \frac{10}{4s + 1} e^{-0.5s}$$

Siendo  $u_{Tc}$  la tensión del sensor de temperatura del agua caliente y  $u_{Qg}$  la tensión que se aplica a la electroválvula que regula el caudal de gas que le llega al quemador. Se pide:



- Determinar el conjunto de ecuaciones algebro-diferenciales del calentador. Considérese proporcionales las relaciones entre las tensiones y los sensores o actuadores. La potencia del quemador es proporcional al caudal del gas (1 punto).
- Obtener el diagrama a bloque del calentador, indicando la variable de entrada, de salida y las perturbaciones (2 puntos).

Utilizando el modelo de Ziegler-Nichols dado del calentador y empleando un control en cadena cerrada con realimentación unitaria.

- Calcular la frecuencia de cruce de ganancia y fase, junto con el margen de fase y de ganancia (2 puntos).
- Dibujar el diagrama de Bode y la curva polar de la cadena abierta, indicando los puntos más característicos (1 punto).
- Dibujar el trazado directo del lugar de las raíces del sistema de regulación (1 punto).
- Estimar la repuesta aproximada del conjunto realimentado ante una entrada en escalón unitario (1 punto).
- Determinar el valor de ganancia del regulador P para que el margen de fase sea del 50°, ¿cómo sería ahora la respuesta del sistema ante una entrada en escalón unitario? (2 puntos).

NOTA: Los dos primeros apartados son teóricos. El resto de las preguntas son independientes de las dos primeras.

1.

$$Q_g(t) = K_{electrovalvula} u_{Qg}(t)$$

$$p(t) = K_Q Q_g(t)$$

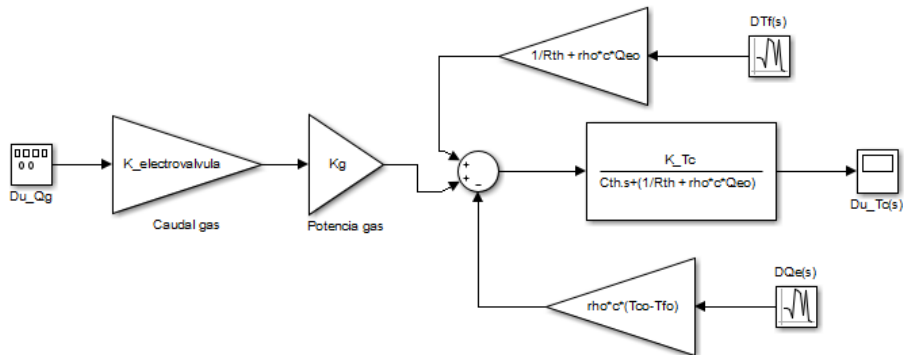
$$p(t) = m_T c_{H_2O} \dot{T}_T(t) + \frac{T_T(t) - T_e(t)}{D} + \rho_{H_2O} Q_e(t) c_{H_2O} (T_c(t) - T_f(t))$$

CLASES PARTICULARES, TUTORÍAS TÉCNICAS ONLINE  
LLAMA O ENVÍA WHATSAPP: 689 45 44 70

---

ONLINE PRIVATE LESSONS FOR SCIENCE STUDENTS  
CALL OR WHATSAPP: 689 45 44 70





3. Calculamos las frecuencias de cruce de ganancia y fase junto con el margen de fase y de ganancia:

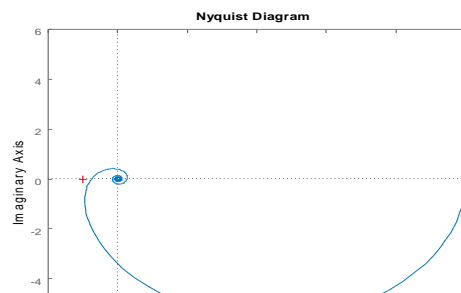
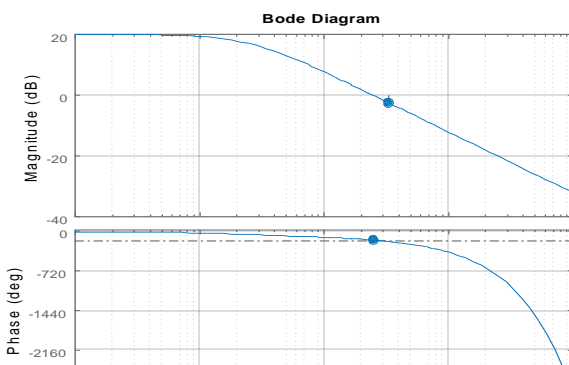
$$\frac{10}{\sqrt{1 + 16\omega_g^2}} = 1; \omega_g = 2.49 \left[ \frac{rad}{s} \right]$$

$$\gamma = 180 - (\arctg 4\omega_g + 0.5\omega_g) \left( \frac{\pi}{180} \right) = 24.5^\circ$$

$$-\arctg 4\omega_f - 0.5\omega_f = -\pi; \omega_f = 3.3 \left[ \frac{rad}{s} \right]$$

$$k_g = \frac{\sqrt{1 + 16\omega_f^2}}{10} = 1.32 \Leftrightarrow 2.43dB$$

4.



**CLASES PARTICULARES, TUTORÍAS TÉCNICAS ONLINE  
LLAMA O ENVÍA WHATSAPP: 689 45 44 70**

---

**ONLINE PRIVATE LESSONS FOR SCIENCE STUDENTS  
CALL OR WHATSAPP:689 45 44 70**

Cartagena99

APELLIDOS

NOMBRE

Nº Mat.

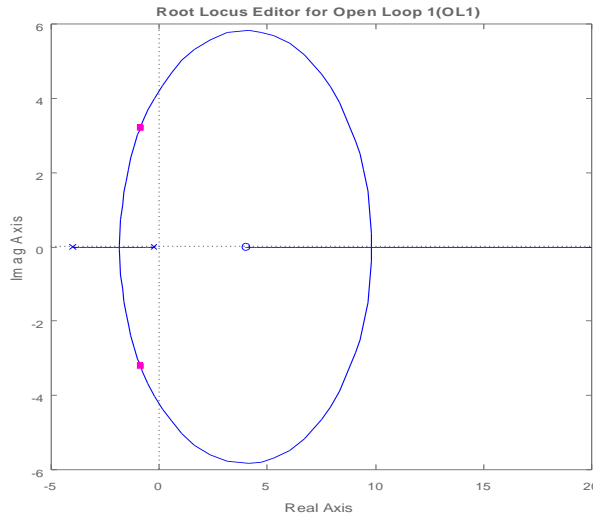
Calificación

ASIGNATURA: REGULACIÓN AUTOMÁTICA

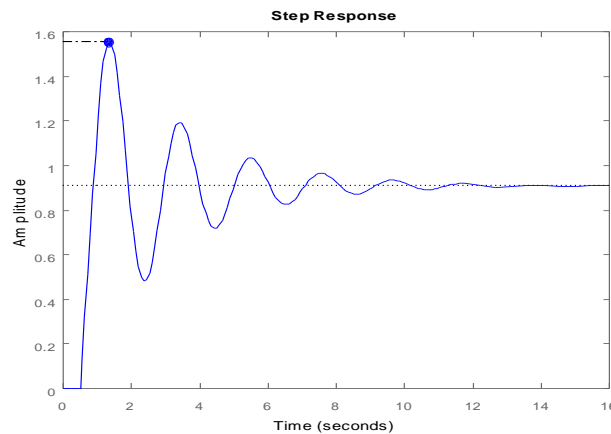
CURSO 3º

GRUPO

Enero 2016



6. Por el LDR se puede observar que el sistema realimentado se puede aproximar a un equivalente de segundo grado:  $\xi_{cc} \approx 0.24$ ;  $2.49 \left[ \frac{rad}{s} \right] \leq \omega_{ncc} \leq 3.3 \left[ \frac{rad}{s} \right]$ . Además, el error al escalón unitario es:  $e_p = \frac{1}{1+10}$ . Por tanto,  $\theta_{cc} = 75.9^\circ$ ,  $M_p = 45.4\%$ , con un valor de la salida en el régimen permanente de 0.91 y un valor de pico de 1.32. La simulación con Matlab es:



7. Determinamos la frecuencia de cruce de ganancia para que el margen de fase sea de  $50^\circ$ :

$$\gamma = 50 = 180 - \left( \arctg 4\omega_g + 0.5\omega_g \right) \left( \frac{\pi}{180} \right); \omega_g = 1.5 \left[ \frac{rad}{s} \right]$$

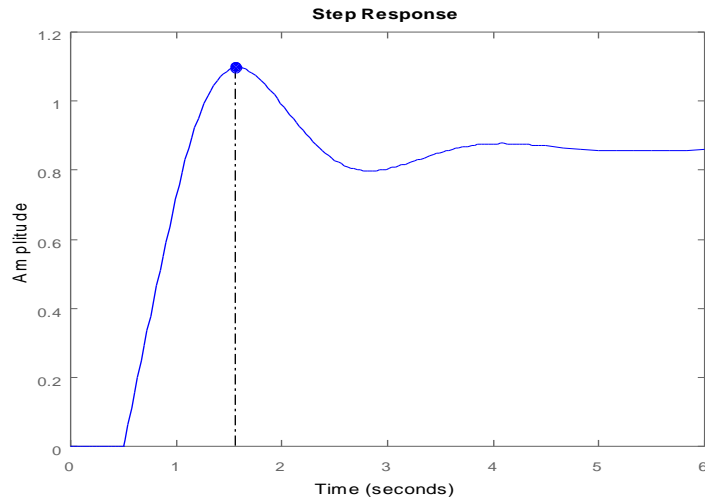
$$10K = 1, K = 0.6$$



CLASES PARTICULARES, TUTORÍAS TÉCNICAS ONLINE  
LLAMA O ENVÍA WHATSAPP: 689 45 44 70

---

ONLINE PRIVATE LESSONS FOR SCIENCE STUDENTS  
CALL OR WHATSAPP: 689 45 44 70



Cartagena99

CLASES PARTICULARES, TUTORÍAS TÉCNICAS ONLINE  
LLAMA O ENVÍA WHATSAPP: 689 45 44 70

---

ONLINE PRIVATE LESSONS FOR SCIENCE STUDENTS  
CALL OR WHATSAPP:689 45 44 70

APELLIDOS

NOMBRE  Nº Mat.

ASIGNATURA: REGULACIÓN AUTOMÁTICA  
CURSO 3º GRUPO Enero 2016

Calificación

**Problema 2 (5 puntos ev. continua, 3 puntos ev. final -55 minutos)**

En la escuela se está diseñando un humanoide escala 1:1 denominado Hidalgo. El punto más crítico del diseño reside en el movimiento de la cadera por lo que se decide analizar con mayor profundidad los efectos dinámicos que tienen sus distintos movimientos.

Para realizar este estudio, se modela el grado de libertad de elevación llegándose a la siguiente FDT que relaciona para una posición determinada del resto de articulaciones, la evolución del ángulo  $\theta$  frente a la consigna enviada al servomotor que controla dicha articulación  $U_m$ , y siendo K un valor ajustable del servomotor:

$$G(s) = \frac{\theta(s)}{U_m(s)} = K \frac{s + 2}{(s^2 + s + 9.25)(s + 0.5)}$$



Aprovechando que el servomotor informa en todo momento de la posición alcanzada por el sistema, se implementa una realimentación unitaria con la idea de poder hacer más robusto el sistema de control.

1.- Estudiar los valores que puede adoptar K manteniéndose el sistema estable (2 punto)

Se obtiene el polinomio característico del sistema realimentado y aplicando Routh, se llega a los márgenes de K:

$$M(s) = \frac{G(s)}{1 + G(s)} = \frac{K(s + 2)}{s^3 + 1.5s^2 + (9.75 + K)s + 4.625 + 2K}$$

$s^3$	1	$9.75 + K$
$s^2$	1.5	$4.625 + 2K$
$s$	$m$	
$s^0$	$n$	

$$m = \frac{1.5(9.75 + K) - 4.625 - 2K}{1.5} \Rightarrow K < 20$$

$$n = 4.625 + 2K \Rightarrow K > -2.3125$$

2.- Calcular el valor de K que lograría una precisión del 15% en el sistema realimentado (1 punto)



CLASES PARTICULARES, TUTORÍAS TÉCNICAS ONLINE  
LLAMA O ENVÍA WHATSAPP: 689 45 44 70

---

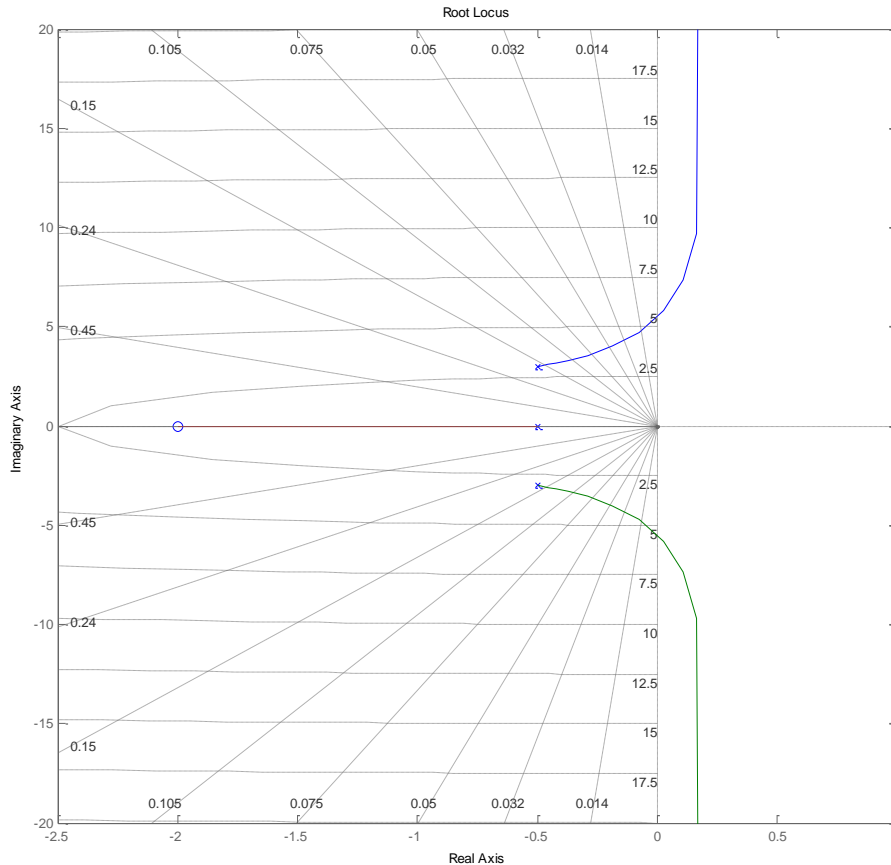
ONLINE PRIVATE LESSONS FOR SCIENCE STUDENTS  
CALL OR WHATSAPP:689 45 44 70

$$\sigma_a = \frac{-0.5 + 3j - 0.5 - 3j - 0.5 + 2}{2} = 0.25$$

$$\theta = \phi \Rightarrow \phi = \frac{180(2K + 1) - 63 - 180}{180(2K + 1) - 63} = 63^\circ$$

Del apartado 1 es muy directo usar el polinomio auxiliar para  $K=21$ , el cual anula la fila en  $s$  manteniendo el sistema estable:

$$D(s) = 0 = 1.5s^2 + 4.125s + 42 \Rightarrow s = \sqrt{\frac{-46.125}{1.5}} = \pm 5.54j$$



Se decide fijar el valor de  $K$  en 12, y como consecuencia la FDT completa del sistema (resuelta la realimentación) es la siguiente :

$$M(s) = \frac{\theta(s)}{\theta_r(s)} = 12 \frac{s + 2}{(s + 1.33)(s^2 + 0.17s + 21.5)}$$

4.- Dibujar el diagrama de Bode del sistema. ¿Con que periodo tenderá a oscilar? (2 punto)

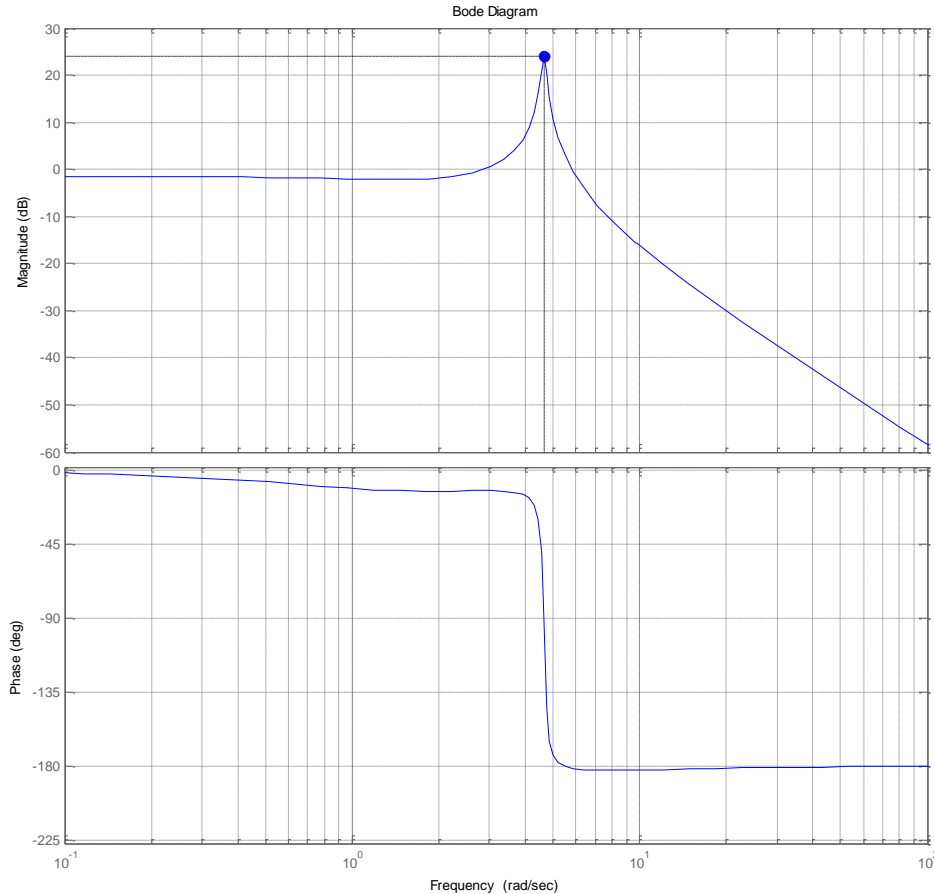
Del calculo de los polos compleios se obtienen tanto la frecuencia natural correspondiente como el amortiguamiento y la

**CLASES PARTICULARES, TUTORÍAS TÉCNICAS ONLINE  
LLAMA O ENVÍA WHATSAPP: 689 45 44 70**

---

**ONLINE PRIVATE LESSONS FOR SCIENCE STUDENTS  
CALL OR WHATSAPP:689 45 44 70**

Cartagena99



Obsérvese que puesto que la resonancia es muy fuerte, el cambio de fase se produce de forma muy brusca en torno a la frecuencia de resonancia.

Mediante síntesis directa se decide incluir un filtro sobre la referencia intentando de esta forma cancelar las oscilaciones. Dicho filtro tiene la siguiente expresión:

$$G_f(s) = \frac{s^2 + 0.17s + 21.5}{s^2 + 9.25s + 21.5}$$

5.- Dibújese aproximadamente el diagrama de bode del filtro. Justifique desde el punto de vista frecuencial el efecto que sobre el sistema tiene este filtrado (2 puntos).

El bode se realiza muy rápidamente considerando el Bode anterior, dado que hay un par de ceros que tienen el efecto inverso al par de polos del sistema. Los nuevos polos complejos conjugados no son resonantes, y tienen la misma frecuencia natural, por lo que las pendientes se anularán en todas las frecuencias.

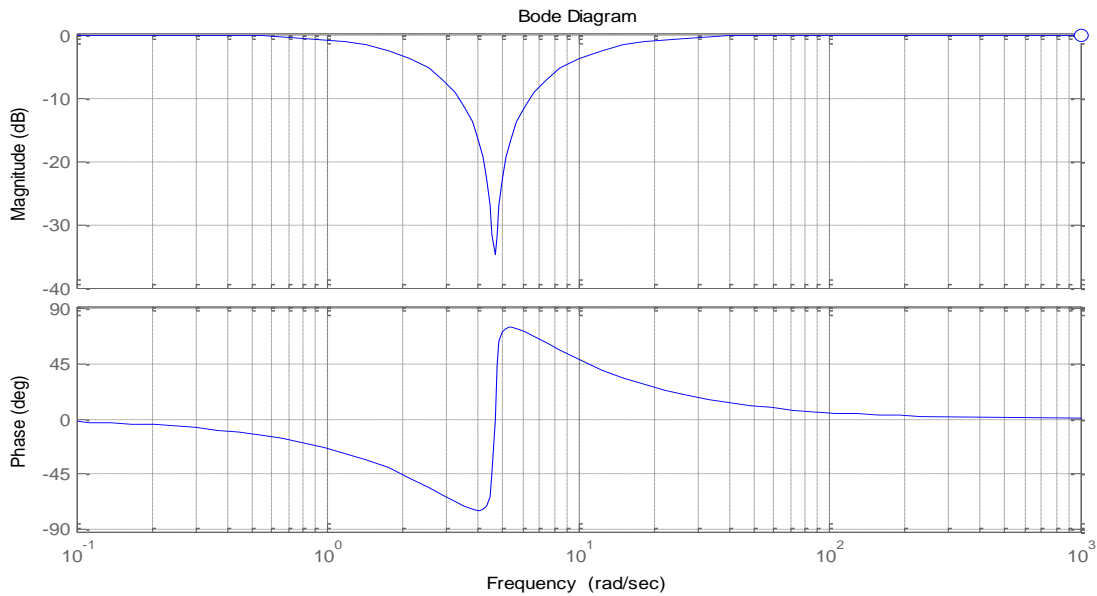
Un dibujo más fino detectaría que al ser resonantes los polos su cambio de fase se realiza de forma más brusca.

**CLASES PARTICULARES, TUTORÍAS TÉCNICAS ONLINE  
LLAMA O ENVÍA WHATSAPP: 689 45 44 70**

---

**ONLINE PRIVATE LESSONS FOR SCIENCE STUDENTS  
CALL OR WHATSAPP:689 45 44 70**

Cartagena99



6.- Caracterizar la respuesta de todo el conjunto ante un escalón unitario y dibujar el diagrama de bloques final de lo descrito(1 punto).

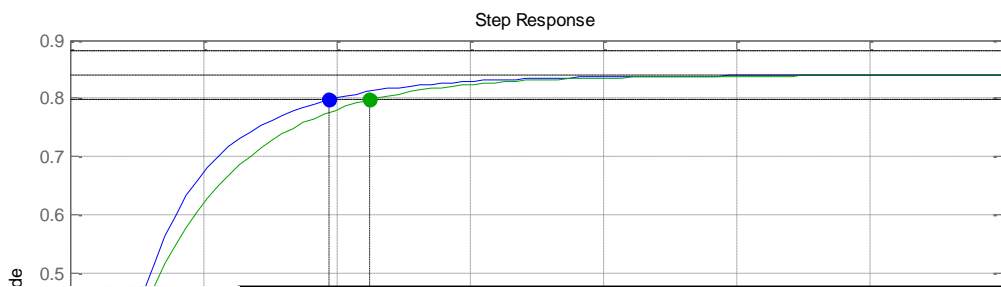
Al agregar el filtro a la entrada de la referencia, cancelará los polos complejos conjugados del sistema realimentado quedando al final la siguiente FDT

$$G_f(s)M(s) = \frac{s^2 + 0.17s + 21.5}{s^2 + 9.25s + 21.5} \cdot 12 \frac{s + 2}{(s + 1.33)(s^2 + 0.17s + 21.5)} = 12 \frac{s + 2}{(s + 1.33)(s^2 + 9.25s + 21.5)}$$

La cual mantiene la ganancia estática y tiene como polo dominante el situado en -1.33, por lo que el sistema se puede aproximar por la respuesta (teniendo en cuenta la pendiente nula en el origen) de un sistema de primer orden :

$$G_{eq}(s) = 0.839 \frac{1.33}{(s + 1.33)} \Rightarrow t_s = \frac{3}{1.33} = 2.25 \text{ s}$$

En verde el sistema equivalente y en azul el sistema original



CLASES PARTICULARES, TUTORÍAS TÉCNICAS ONLINE  
LLAMA O ENVÍA WHATSAPP: 689 45 44 70

---

ONLINE PRIVATE LESSONS FOR SCIENCE STUDENTS  
CALL OR WHATSAPP:689 45 44 70

Time (sec)

Cartagena99